



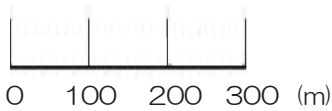
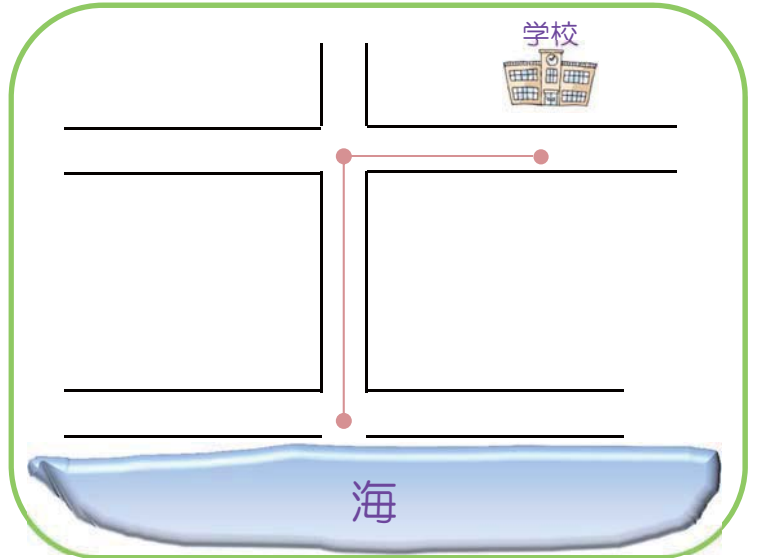
縮尺

組 番

名前

縮尺や拡大図

右の図は、学校から海までの道のりを表した地図です。実際の学校から海までの道のりは何mか、下の縮尺にもとづいて測りましょう。



☆ポイントチェック☆

あてはまる言葉を「○」でかこみましょう。

津波つなみが来ると思ったら、なるべく
高い ・ 海から離れた 場所ひなんに避難する。




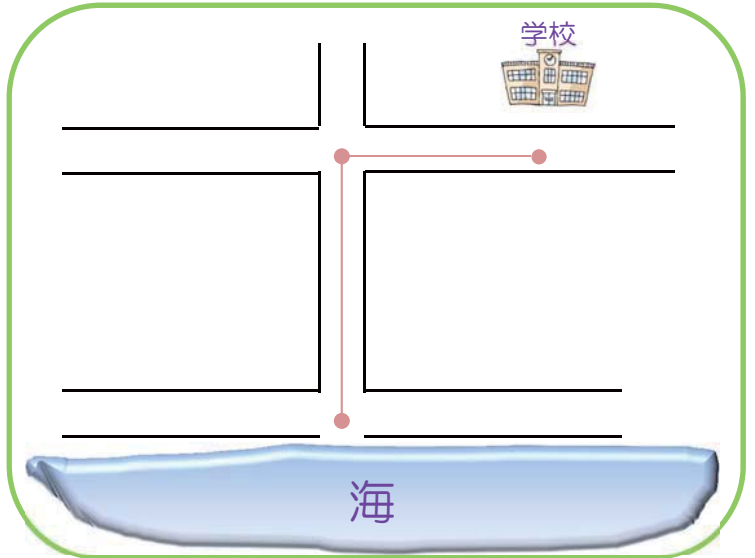
縮尺

組 番

名前

縮尺や拡大図

右の図は、学校から海までの道のりを表した地図です。実際の学校から海までの道のりは何mか、下の縮尺にもとづいて測りましょう。



600m

津波から逃れるのに安全かどうかは、海よりどれくらい高いか（海拔の高さ）であり、海からの距離ではないことをご指導ください。十分に離れている場所でも、海拔が低い地域は浸水します。また、避難場所に指定されている学校や公園でも、想定より大きい津波が襲来した際は浸水する危険があるため、より高い避難場所の確認も重要です。

☆ポイントチェック☆

あてはまる言葉を「○」でかこみましょう。

- 高い ・ 津波が来ると思ったら、なるべく海から離れた場所に避難する。